

ВСЕРОССИЙСКАЯ ОЛИМПИАДА ШКОЛЬНИКОВ 2024/25 УЧЕБНЫЙ ГОД
ШКОЛЬНЫЙ ЭТАП
«ИСКУССТВО (МИРОВАЯ ХУДОЖЕСТВЕННАЯ КУЛЬТУРА)»
9 КЛАСС

Шифр участника 11-09-02

Время выполнения работы – 4 академических часа (180 минут)

Максимальное количество баллов за выполнение заданий – **156 баллов**

Количество набранных баллов: _____

№ задания/ количество баллов	№ 1	№ 2	№ 3	№ 4	№ 5	Всего
Максимальное количество баллов	26	16	54	10	50	156
Количество набранных баллов	15	8	42	0	30	95
Подпись проверяющего						

Задание № 1 (26 баллов)

1. Прочитайте названия элементов религиозных сооружений.

Часть из них принадлежит православному храму, другая часть принадлежит исламской мечети:

алтарь; апсида; михраб; арочные галереи;
обилие растительного орнамента в интерьере;
купол в виде полушария;
религиозная символика – полумесяц со звездой;
крестово-купольный тип сооружения;
символ веры – крест;
купол луковичной формы.

Распределите эти слова в соответствии с их культурно-религиозной принадлежностью, ответ запишите ниже в строчку.

Исламская мечеть:



Михраб¹; купол в виде полушария¹; религиозная сим-
волика - полумесяц со звездой¹; обилие растите-
льного орнамента в интерьере.

ВСЕРОССИЙСКАЯ ОЛИМПИАДА ШКОЛЬНИКОВ 2024/25 УЧЕБНЫЙ ГОД
ШКОЛЬНЫЙ ЭТАП
«ИСКУССТВО (МИРОВАЯ ХУДОЖЕСТВЕННАЯ КУЛЬТУРА)»
9 КЛАСС

Православный храм:

Алтарь; апсида; крестово-купольный тип сооружений; символ веры - крест; купол и купольный фриз; арочные галереи.

2. При сравнении религиозных строений мы видим отличия. А что делает похожими минарет (в исламской мечети) и колокольню (в христианском храме)? Напишите свой ответ ниже. Обратите внимание на высоту, функцию, форму минарета и колокольни.



Ответ:

Ислам и православие - две совершенно непохожие религии, но даже у них есть общие черты. Например, форма минарета в минарете своей функцией и возвышенностью, можно даже сказать отдаленно напоминает христианские колокольни. Какая еще функция у колоколен? Колокольни оповещают прихожан о начале службы, в 12 часов, минарет же оповещает мусульман о начале намаза, в этот их время.


ВСЕРОССИЙСКАЯ ОЛИМПИАДА ШКОЛЬНИКОВ 2024/25 УЧЕБНЫЙ ГОД
ШКОЛЬНЫЙ ЭТАП
«ИСКУССТВО (МИРОВАЯ ХУДОЖЕСТВЕННАЯ КУЛЬТУРА)»
9 КЛАСС

3. Рассмотрите внимательно фотографии религиозных сооружений Ханты-Мансийского автономного округа – Югры. Какие из них вам известны? Сделайте подписи для фото в указанном месте. Укажите, какие храмы перед вами (можно использовать слова «собор», «церковь» и др.). Если вам известно точное название и месторасположения данных храмов, то обязательно впишите их.



Ответ:

Это сооружение - храм 2



Ответ:

Это сооружение - мечеть 2

Максимальное количество баллов за задание – 26.

Баллы:

15

ВСЕРОССИЙСКАЯ ОЛИМПИАДА ШКОЛЬНИКОВ 2024/25 УЧЕБНЫЙ ГОД
ШКОЛЬНЫЙ ЭТАП
«ИСКУССТВО (МИРОВАЯ ХУДОЖЕСТВЕННАЯ КУЛЬТУРА)»
9 КЛАСС

Задание № 2 (16 баллов)

В таблице перепутаны понятия и их определения.

1. Соотнесите понятия с их определениями.
2. Внесите в таблицу ответа буквы, соответствующие цифрам.
3. Дайте определение оставшимся понятиям.

Понятия	Определения
1. Триптих	А. Переложение музыкального произведения для исполнения на другом инструменте или другим голосом.
2. Аранжировка	Б. Христианское богослужение, у католиков - месса.
3. Импровизация	В. Расположение актеров на сцене в тот или иной момент спектакля.
4. Миниатюра	Г. Выступление с чем-либо, не подготовленным заранее.
5. Литургия	Д. <i>Художественное произведение, состоящее из трех частей, например картина</i>
6. Мизансцена	Е. <i>Подбор музыкальных инструментов для исполнения того музыкального произведения</i>

№ по порядку	1	2	3	4	5	6
Буквы	Д	Е	Г	В	Б	А

Максимальное количество баллов за задание – 16.

Баллы:

5

ВСЕРОССИЙСКАЯ ОЛИМПИАДА ШКОЛЬНИКОВ 2024/25 УЧЕБНЫЙ ГОД
ШКОЛЬНЫЙ ЭТАП
«ИСКУССТВО (МИРОВАЯ ХУДОЖЕСТВЕННАЯ КУЛЬТУРА)»
9 КЛАСС

Задание № 3 (54 балла)

1. Прочитайте три предложенных текста. О каких литературных произведениях идёт речь?


1	<p>Эта сказка – последнее из созданных А.С. Пушкиным произведений такого рода. Сказка была написана в 1834 году.</p> <p>Исследователям удалось установить, что автор взял на основу сюжет, который был известен различным народам ещё со времен Древнего Египта. Так в египетской сказке жрица-волшебница приказывает изготовить из красного камня вращающуюся скульптуру барана на пьедестале в виде мельничного жернова, а над пьедесталом поднять железный стержень с бронзовым петухом на острие. Сооружение было размещено на горе. Когда враг наступал на Египет, то вращающийся каменный баран смотрел в направлении, откуда шёл противник, и в то же самое время бронзовый петух пел, предупреждая о надвигающейся опасности.</p>
2	<p>Это произведение – известный памятник литературы Киевской Руси. В основе сюжета – неудачный поход русских князей на половцев, предпринятый новгород-северским князем в 1185 году. Произведение было написано в конце 12 века, вскоре после описываемого события, и проникнуто мотивами славянской народной поэзии с элементами языческой мифологии.</p>
3	<p>Действие этой повести Н.В. Гоголя хронологически приурочено к эпизоду царствования императрицы Екатерины II, а именно – последней депутации запорожцев, состоявшейся в 1775 году и связанной с работой Комиссии по упразднению Запорожской Сечи. Сам же сюжет произведения разворачивается в деревне Диканька на Украине.</p>

ВСЕРОССИЙСКАЯ ОЛИМПИАДА ШКОЛЬНИКОВ 2024/25 УЧЕБНЫЙ ГОД
ШКОЛЬНЫЙ ЭТАП
«ИСКУССТВО (МИРОВАЯ ХУДОЖЕСТВЕННАЯ КУЛЬТУРА)»
9 КЛАСС


2. Рассмотрите изображения. Какие виды искусства на них представлены?




1. Композитор А. П. Бородин



2. Композитор Н.А. Римский-Корсаков



3. Постановщик О. Николаев



4. Режиссер А. Снежко-Блоцкая




5. Постановщик Р. Тихомиров




6. Постановщик А. Роу



7. Н. Стрельникова



8. Композитор А.П. Бородин.
Половецкие пляски.
Хореограф М. Фокин



9.

ВСЕРОССИЙСКАЯ ОЛИМПИАДА ШКОЛЬНИКОВ 2024/25 УЧЕБНЫЙ ГОД
ШКОЛЬНЫЙ ЭТАП
«ИСКУССТВО (МИРОВАЯ ХУДОЖЕСТВЕННАЯ КУЛЬТУРА)»
9 КЛАСС

		
10. Композитор Н.А. Римский-Корсаков	11. В.М. Васнецов	12. Постановщик М. Фокин

1. Впишите названия литературных произведений в левый столбец таблицы ответов.

2. В правом столбце, напротив названия литературного произведения, поставьте номера всех изображений, которые ему соответствуют, и напишите, к какому виду искусства относится каждое из них.

Таблица ответов

Название литературного произведения	Вид искусства (с указанием номера изображения)
1. "Душман и младший"	№ 1 2 - музыка 2
	№ 12 - театральное 2 + 2
	№ 4 - изобразительное искусство 2 + 2 (информатика)
	№ 7 - изобразительное искусство 2
2. "Сказка о попе и о его сыне". 2	№ 1 - музыка 2
	№ 11 - изобразительное искусство 2 + 2
	№ 5 - театральное искусство 2 + 2 (киноискусство)
	№ 8 - хореография и музыка 2 музыка

ВСЕРОССИЙСКАЯ ОЛИМПИАДА ШКОЛЬНИКОВ 2024/25 УЧЕБНЫЙ ГОД
ШКОЛЬНЫЙ ЭТАП
«ИСКУССТВО (МИРОВАЯ ХУДОЖЕСТВЕННАЯ КУЛЬТУРА)»
9 КЛАСС

3. "Венер на авторе Энрике Риккарди" 2	№ 10 - музыка 2
	№ 6 - актёрское мастерство 2+2
	№ 3 - искусство танца 2+2 (хореография)
	№ 9 - изобразительное искусство 2+2

Для справок: виды искусств – живопись, графика, искусство иллюстрации (книжная графика), скульптура, архитектура, дизайн, декоративно-прикладное искусство, театр, музыка, литература, танец, кинематография, мультипликация и т.д.

Максимальное количество баллов за задание – 54.

Баллы:

42

Задание № 4 (10 баллов)

1. Определите по фотографии:

Русского оперного певца, который соединил в своем творчестве музыкальность, яркие вокальные данные, необыкновенное актёрское мастерство. Занимался живописью, графикой, скульптурой и снимался в кино. Оказал большое влияние на мировое оперное искусство.



ОТВЕТ: _____

ВСЕРОССИЙСКАЯ ОЛИМПИАДА ШКОЛЬНИКОВ 2024/25 УЧЕБНЫЙ ГОД
ШКОЛЬНЫЙ ЭТАП
«ИСКУССТВО (МИРОВАЯ ХУДОЖЕСТВЕННАЯ КУЛЬТУРА)»
9 КЛАСС

2. Его глубокий (название голоса) был настолько мощным и уникальным, что многие известные вокалисты считают его эталоном резонансного пения.

ОТВЕТ: тенор

3. Зайдите по ссылке и определите по видео фрагменту: (жанр музыки, название музыкального произведения, ФИО композитора)

ОТВЕТ: _____

ОТВЕТ: _____

ОТВЕТ: _____

<https://cloud.mail.ru/public/zEFj/9jGkMbKFJ>

Максимальное количество баллов за задание – 10.

Баллы:

0

Задание № 5 (50 баллов)

В вашей школе готовится концерт – выберите тему концерта: («Россия-наш дом»; «Все начинается с семьи»; «Моя Югра».

Составьте программу этого концерта (порядок концертных номеров), включив в неё стихи известных поэтов, вокальные и танцевальные произведения.

Предложите картины художников (не более 5-ти), которые могут проецироваться во время концерта на экран. В программе концерта должно быть не более 10 номеров.

Ответ:

В нашей стране 2024 год объявлен годом
вины. И правда, вина-самое близкое и дорогое
то что есть у человека. Наша вина должна

ВСЕРОССИЙСКАЯ ОЛИМПИАДА ШКОЛЬНИКОВ 2024/25 УЧЕБНЫЙ ГОД
ШКОЛЬНЫЙ ЭТАП
«ИСКУССТВО (МИРОВАЯ ХУДОЖЕСТВЕННАЯ КУЛЬТУРА)»
9 КЛАСС

современному человеку важность семьи и её ценности. Поэтому поэзию бы и проведёт конкурс на тему: "Все начинается с семьи".

2+2 Творческое раб в жизни ребёнка, а в последствии взрослого человека играет роль. Мамы всегда согреты и уютны, просят и любят. Учили с песней о маме и бы хотели почитать свои конкурсы. На фоне и бы хотели разместить "Мадонну с младенцем" Рафаэля как символ чистой материнской любви.

Все мы растем и заводим собственные семьи. Мы любим своих детей и окружаем их и играем, заботимся о них. Так символ вечной любви я бы хотела добавить "Троицу

2+2 Ярославля" из знаменитых древнерусских иконографий "Слова о покаянии Илариона". Иконография сопровождалась бы изобразительными Ярославля и картинами В.М. Васнецова, посвященными

2+2 семье дружной и крепкой всегда наступают старость. В память о наших бабушках и дедушках, которые окружали и растили нас я добавлю в программу стихотворение А.С.

2+2 Пушкина "Песнь" как память о семье наших старших родственников.

5+5+4

This image shows a single sheet of white paper with horizontal ruling lines. The lines are evenly spaced and run across the width of the page. There are no margins, text, or other markings on the paper.